











**PROMETNA SIGNALIZACIJA, OPREMA CEST, NAPRAVE IN UKREPI ZA
UMIRJANJE PROMETA, POLICIST, OBČINSKO REDARSTVO, DRUGE URADNE
POOBLAŠČENE OSEBE**

	<p>Kako boste ravnali za tem prometnim znakom?</p> <ol style="list-style-type: none"> Pripravim se na morebitno večjo količino prahu v zraku. Vozim s takšno hitrostjo, da lahko varno ustavim pred morebitnim kamenjem na vozišču. Pozoren sem na vozila, ki se prihajajo iz kamnoloma. Vožnjo nadaljujem s povečano previdnostjo.
	<p>Kaj od navedenega lahko pričakujete za tem prometnim znakom?</p> <ol style="list-style-type: none"> Delovne stroje in delavce na ali ob vozišču. Spremenjen prometni režim. Onesnaženo vozišče. Občinsko redarsko službo.
	<p>Katere nevarnosti lahko pričakujete, ko zapeljete mimo tega prometnega znaka z dopolnilno tablo?</p> <ol style="list-style-type: none"> Asfaltiranje celotnega vozišča. Odstranjevanje snega z vozišča. Posipavanje vozišča zaradi preprečevanja nastanka poledice. Veliko gradbenih strojev zaradi obsežnih gradbenih del.
	<p>Označite razdaljo od mesta postavitve tega prometnega znaka do mesta, ki ga označuje!</p> <ol style="list-style-type: none"> 0 m. 3-10 m. 80 m. 150-250 m.
	<p>Označite razdaljo od mesta postavitve tega prometnega znaka do mesta, ki ga označuje!</p> <ol style="list-style-type: none"> 0 m. 15-30 m. 150-250 m.

	<p>Označite razdaljo od mesta postavitve tega prometnega znaka (zunaj naselja) do mesta, ki ga označuje!</p> <p>a. 0 m. b. 150-250 m. c. 800 m.</p>
	<p>Označite razdaljo od mesta postavitve tega prometnega znaka (zunaj naselja) do mesta, ki ga označuje!</p> <p>a. 0 m. b. 150-250 m. c. 800 m.</p>
	<p>Označite razdaljo od mesta postavitve tega prometnega znaka (zunaj naselja) do mesta, ki ga označuje!</p> <p>a. 0 m. b. 50 m. c. 150-250 m. d. 1000 m.</p>
	<p>Kako ravnate, ko pripeljete do tega prometnega znaka?</p> <p>a. Nadaljujem vožnjo, saj imam prednost. b. Po potrebi ustavim in dam prednost vsem vozilom na prednostni cesti, s katerimi imam točko možnega trčenja. c. Vselej ustavim. Ko se prepričam, da ni nikogar na prednostni cesti, zapeljem na križišče.</p>
	<p>Katera naštetá vozila smejo nadaljevati vožnjo mimo tega prometnega znaka?</p> <p>a. Vsa motorna vozila, razen osebnih avtomobilov. b. Motorna kolesa brez stranskega priklopnika. c. Osební avtomobili. d. Mopedi.</p>

	<p>Katerim naštetim vozilom je nadaljnja vožnja mimo tega prometnega znaka prepovedana?</p> <ol style="list-style-type: none"> Osebnim avtomobilom, vprežnim vozilom in motornim kolesom. Vsem motornim in vprežnim vozilom. Vsem motornim in vprežnim vozilom, razen tovornim vozilom.
	<p>Kaj pomeni ta prometni znak?</p> <ol style="list-style-type: none"> Prepovedan promet za tovorna vozila, ki presegajo določeno dolžino. Prepovedan promet za vozila ali skupine vozil, ki presegajo določeno skupno dolžino. Prepovedan promet za vozila, ki presegajo določeno skupno maso.
	<p>Označite pravilno trditev glede pomena tega prometnega znaka:</p> <ol style="list-style-type: none"> Prepovedano je prehitevanje samo osebnih avtomobilov. Prepovedano je prehitevanje vseh vozil. Prepovedano je prehitevanje vseh dvo- in trislednih motornih vozil.
	<p>Kaj označuje ta prometni znak z dopolnilno tablo?</p> <ol style="list-style-type: none"> Razdaljo do mesta, ki je označeno s prometnim znakom <i>Križišče/cestni priključek s prednostno cesto</i>. Razdaljo do mesta, kjer je obvezna ustavitev vozila. Razdaljo do mesta, kjer ne bo možno nadaljevati vožnje in bo treba vozilo polkrožno obrniti.

	<p>Kako ravnate, ko pripeljete do teh prometnih znakov, ki sta na istem drogu?</p> <ol style="list-style-type: none"> Obvezno vklopim utripalke na desni strani vozila. V vsakem primeru ustavim pred križiščem. Zapeljem na križišče, če pri tem nikogar ne oviram. Na križišče se vključim na desno.
	<p>Kaj označuje ta prometni znak?</p> <ol style="list-style-type: none"> Prehod za pešce. Kolesarsko stezo. Osvetljeno kolesarsko pot. Samostojni prehod za kolesarje.
	<p>Kaj označuje ta prometni znak?</p> <ol style="list-style-type: none"> Naselje, skozi katero poteka cesta. Neposredno bližino razpršene poselitve, ob kateri poteka cesta. Ime ceste v naselju.
	<p>Katere trditve v zvezi s prometnim znakom na sliki so pravilne?</p> <ol style="list-style-type: none"> Od znaka naprej je največja dovoljena hitrost 50 km/h. Od znaka naprej je dovoljen samo promet motornih vozil. Znak označuje neposredno bližino razpršene poselitve, ob kateri poteka cesta. Znak ne vzpostavlja pravil vožnje v naselju.
	<p>Kaj sporoča ta prometni znak?</p> <ol style="list-style-type: none"> Potrditev smeri z imeni krajev. Razvrščanje vozil z imeni krajev. Izvoz z avtoceste z imeni krajev.

 <p style="text-align: center;">A B C</p>	<p>S katerim prometnim znakom na sliki je označen prometni pas, na katerega se morajo pri nadaljnji vožnji vključiti počasna vozila?</p> <p>a. S prometnim znakom A. b. S prometnim znakom B. c. S prometnim znakom C.</p>
	<p>Označite razdaljo od mesta postavitve tega prometnega znaka do mesta, ki ga označuje!</p> <p>a. 0 m. b. 50-150 m. c. 150-250 m.</p>
	<p>Kaj pomeni prikazana označba na prometnem pasu, po katerem vozite?</p> <p>a. Prva cesta na levi je slepa cesta. b. Za zavijanje levo na naslednjem križišču se moram razvrstiti na desni prometni pas. c. Levo lahko zavijem šele na drugem križišču, razvrstiti pa se moram že pred prvim križiščem.</p>
	<p>Ali smete nadaljevati vožnjo mimo tako ustavljenega vozila?</p> <p>a. Da, če lahko to varno storim. b. Ne, saj ločilna neprekinjena črta brez izjeme prepoveduje vožnjo po njej ali čez njo.</p>
	<p>Kako ravnate, ko pripeljete do znaka, ki ga vidite na sliki?</p> <p>a. Zmanjšam hitrost in sem pozoren, ker se je zgodila prometna nesreča. b. Ustavim. c. Zmanjšam oziroma prilagodim hitrost, da lahko na znak policista varno ustavim.</p>



Prikazani cestni smerniki vam:

- a. Označujejo bližino roba vozišča.
- b. Nakazujejo potek ceste.
- c. Nakazujejo konec neutrjene bankine ob cesti.
- d. Označujejo površino, do koder sega lastništvo upravljavca ceste.