
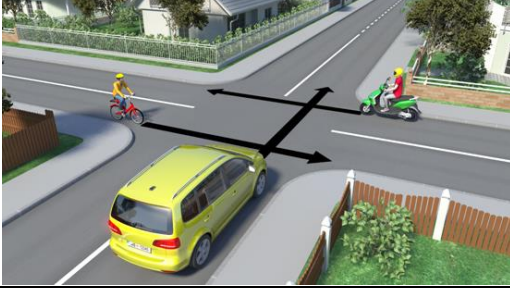

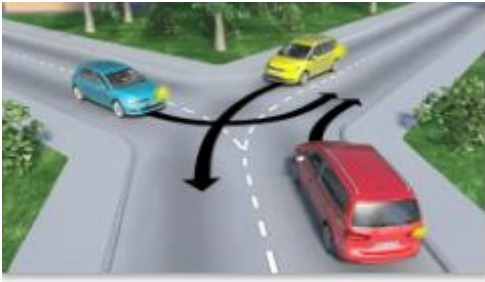










PRAVILA CESTNEGA PROMETA





	<p>Na katerih prometnih površinah pri vožnji v koloni ali zastojih ne smete ustaviti?</p> <ul style="list-style-type: none">a. Na križiščih.b. Na prehodih za pešce.c. Na prehodih ceste čez železniško progo.d. Na prehodih za kolesarje.
	<p>Katero vozilo smete prehiteti po desni strani?</p> <ul style="list-style-type: none">a. Vozilo, ki vozi po ploščadi pred cestninsko postajo.b. Vozilo, ki vozi po cesti v naselju, ki ima več prometnih pasov za vožnjo v isto smer.c. Vozilo, ki vozi po avtocesti.d. Vozilo, ki pred nami zavija na levo.
	<p>Katera naštetá ravnanja so za varno prehitovanje še posebej pomembna?</p> <ul style="list-style-type: none">a. Previdna in počasna izpeljava manevra.b. Opazovanje prometa daleč pred vozilom.c. Opazovanje prometa v vzvratnih ogledalih.d. Kontrola mrtvega kota vzvratnih ogledal.
	<p>Označite pravilne trditve. Na križišču je izjemoma dovoljeno prehiteti:</p> <ul style="list-style-type: none">a. Enosledno vozilo.b. Po desni strani vozilo, ki zavijajo na levo.c. Vsa vozila, če vozimo po prednostni cesti.d. Vsa počasna vozila, ne glede na to, ali vozimo po prednostni ali neprednostni cesti.
	<p>Vozite po prednostni cesti. Katero od naštetih vozil smete prehiteti na križišču?</p> <ul style="list-style-type: none">a. Enosledno vozilo.b. Motokultivator.c. Traktor.d. Delovni stroj.

	<p>Označite pravilne trditve. Prehitevanje dvoslednih vozil je prepovedano:</p> <ul style="list-style-type: none"> a. Na prehodu ceste čez železniško progo. b. Na križišču, če vozimo po prednostni cesti. c. Na križišču, če vozimo po neprednostni cesti. d. Pred prehodom za pešce, ko nanj stopajo pešci.
	<p>Menjava prometnega pasu je prepovedana:</p> <ul style="list-style-type: none"> a. Na križiščih, razen na nekaterih krožnih. b. Na cestah zunaj naselja. c. Kadar se promet zgosti toliko, da vozila zasedejo vse prometne pasove in vozijo v počasni koloni. d. Na večpasovnih enosmernih cestah v naselju.
	<p>Označite pravilne trditve. Na prehodu ceste čez železniško progo je prepovedano:</p> <ul style="list-style-type: none"> a. Prehitevanje enoslednih vozil. b. Prehitevanje dvoslednih vozil. c. Vzratna vožnja. d. Ustavitev in parkiranje.
	<p>Približujete se križišču po smernem vozišču brez označenih prometnih pasov. Kam se boste razvrstili za vožnjo naravnost?</p> <ul style="list-style-type: none"> a. Na levo stran smernega vozišča. b. Na desno stran smernega vozišča. c. Na sredino smernega vozišča.
	<p>Približujete se križišču, na katerem boste peljali naravnost. Kako boste ravnali?</p> <ul style="list-style-type: none"> a. Križišče prevozim kot zadnji. b. Počakam, da križišče prevozi moped, nato križišče prevozim pred tovornim vozilom. c. Križišče prevozim pred tovornim vozilom in mopedom.

	<p>Ali ima kolesar prednost pred osebnim avtomobilom?</p> <p>a. Da. b. Ne.</p>
	<p>Po katerem vrstnem redu boste udeleženci cestnega prometa prevozili križišče?</p> <p>a. Jaz, voznik mopeda, kolesar. b. Kolesar in voznik mopeda hkrati, nato jaz. c. Voznik mopeda, kolesar, jaz. d. Kolesar, jaz, voznik mopeda.</p>
	<p>Po katerem vrstnem redu bodo vozila prevozila križišče?</p> <p>a. Rumeni osebni avtomobil, rdeči in kot zadnji modri osebni avtomobil. b. Modri osebni avtomobil, rumeni in kot zadnji rdeči osebni avtomobil. c. Rdeči in rumeni osebni avtomobil hkrati, nato modri osebni avtomobil. d. Rdeči osebni avtomobil, modri in kot zadnji rumeni osebni avtomobil.</p>
	<p>Približujete se križišču. Kako boste ravnali?</p> <p>a. Pred križiščem počakam, da odpeljejo vsa vozila, nato zavijem. b. Počakam, da vozili na prednostni cesti odpeljeta, nato zapeljem do sredine vozišča, kjer počakam še na rdeči osebni avtomobil. c. Počakam, da vozili na prednostni cesti odpeljeta, nato zavijem pred rdečim osebnim avtomobilom.</p>

	<p>Na križišču boste zapeljali na levo. Kako boste ravnali?</p> <ol style="list-style-type: none"> Za rumenim osebnim avtomobilom zapeljem do sredine križišča, kjer počakam, da odpeljeta moped in kolo. Ustavim pred križiščem in počakam, da vsa tri vozila prevozijo križišče. Križišče prevozim za rumenim osebnim avtomobilom in pred obema voziloma iz nasprotne smeri. Počakam, da moped in kolo prva prevozita križišče, nato odpeljem pred rumenim osebnim avtomobilom.
	<p>Ali med katerimi od vozil velja desno pravilo?</p> <ol style="list-style-type: none"> Da, med motornim kolesom in modrim osebnim avtomobilom. Da, med modrim osebnim avtomobilom in rdečim osebnim avtomobilom. Ne, na tem križišču desno pravilo ne velja. Da, med motornim kolesom in rdečim osebnim avtomobilom.
	<p>Določite pravilni vrstni red vožnje čez križišče!</p> <ol style="list-style-type: none"> Kolo, rdeči osebni avtomobil, modri osebni avtomobil, avtobus. Modri osebni avtomobil, rdeči osebni avtomobil, avtobus, kolo. Modri osebni avtomobil, kolo in rdeči osebni avtomobil istočasno, avtobus. Avtobus, modri osebni avtomobil nato istočasno kolo in rdeči osebni avtomobil.

	<p>Določite pravilni vrstni red vožnje čez križišče!</p> <ol style="list-style-type: none"> Kolo, rdeči osebni avtomobil, modri osebni avtomobil, tovorno vozilo. Modri osebni avtomobil, rdeči osebni avtomobil, tovorno vozilo, kolo. Modri osebni avtomobil, hkrati kolo in rdeči osebni avtomobil, tovorno vozilo. Tovorno vozilo, modri osebni avtomobil nato hkrati kolo in rdeči osebni avtomobil.
	<p>Določite pravilni vrstni red vožnje čez križišče!</p> <ol style="list-style-type: none"> Jaz, kolesar, voznik tovornega vozila, voznik osebnega avtomobila. Jaz in voznik osebnega avtomobila hkrati, nato voznik tovornega vozila in hkrati kolesar. Kolesar, jaz, voznik tovornega vozila, voznik osebnega avtomobila. Kolesar, jaz, voznik osebnega avtomobila, voznik tovornega vozila.
	<p>Ali med katerimi vozili velja desno pravilo?</p> <ol style="list-style-type: none"> Med motornim kolesom in menoj. Med osebnim avtomobilom in menoj. Osebnim avtomobilom in tovornim vozilom. Med tovornim vozilom in motornim kolesom.
	<p>Voznik namerava zapeljati na notranji prometni pas krožnega križišča. Ali je to v prikazani situaciji pravilno?</p> <ol style="list-style-type: none"> Da, voznik mora zapeljati na notranji prometni pas. Ne, voznik mora zapeljati na zunanji prometni pas. Da, voznik mora zapeljati na notranji prometni pas, razen če namerava zapustiti krožno križišče na prvem izvozu.

	<p>Kaj boste vi in voznik osebnega avtomobila upoštevala pri vožnji čez križišče?</p> <ol style="list-style-type: none"> Desno pravilo. Pravilo srečanja. Luči na semaforju. Prometni znak <i>prednostna cesta</i>.
	<p>Kaj boste vozniki upoštevali pri vožnji čez križišče?</p> <ol style="list-style-type: none"> Desno pravilo. Pravilo srečanja. Luči na semaforju. Prometni znak <i>prednostna cesta</i>.
	<p>Rumena luč na semaforju utripa. Kaj od naštetega boste upoštevali pri vožnji čez križišče?</p> <ol style="list-style-type: none"> Prometne znake. Pravilo srečanja. Desno pravilo.
	<p>Kateri udeleženci cestnega prometa na sliki imajo prednost pred vami?</p> <ol style="list-style-type: none"> Nobeden, ker na semaforju, po katerem se ravnam, gori zelena luč v obliki puščice. Samo voznik osebnega avtomobila, saj velja pravilo srečanja. Samo pešca in kolesar, ki jim sekam pot. Voznik osebnega avtomobila, pešca in kolesar.



Kdo ima v situaciji, prikazani na sliki, prednost pred vami?

- a. Samo pešca.
- b. Samo kolesar.
- c. Nobeden.
- d. Osebni avtomobil.



Policist je v tem položaju dvignil desno roko. Katera luč na semaforju ima za udeležence cestnega prometa enak pomen?

- a. Luč A.
- b. Luč B.
- c. Luč C.




Na križišču ureja promet policist. Kako bo ravnal voznik modrega osebnega avtomobila?

- a. Ustavi, saj mu je policist s predročeno desno roko zaprl pot.
- b. Vožnjo lahko nadaljuje le naravnost oz. na desno.
- c. Nadaljuje vožnjo, a mora zaradi pravila srečanja pustiti mimo rdeči osebni avtomobil.



Približujete se križišču na katerem promet ureja policist. Kako boste ravnali?

- a. Počakam pred križiščem, saj ima, zaradi desnega pravila, zeleni osebni avtomobil prednost pred mano.
- b. Križišče prevozim brez ustavljanja.
- c. Ker smo štirje vozniki s točkami možnega trčenja, se s policistom dogovorimo, kdo pelje prvi.
- d. Zapeljem na križišče, kjer zaradi pravila srečanja počakam rdeči osebni avtomobil.

	<p>Na križišču promet ureja policist. Kako boste ravnali?</p> <ol style="list-style-type: none"> Zapeljem na križišče, kjer zaradi pravila srečanja pustim mimo rdeči osebni avtomobil. Ustavim, saj mi je policist s predročeno desno roko zaprl pot. Vožnjo lahko nadaljujem le na desno. Ustavim in zaradi desnega pravila prevozim križišče za zelenim osebnim avtomobilom.
	<p>Kako ravnate, kadar vas dohiteva vozilo za spremstvo?</p> <ol style="list-style-type: none"> Vožnjo nadaljujem z nezmanjšano hitrostjo, vendar ne prehitvam. Ustavim in omogočim vozilu za spremstvo in vozilom, ki jih spremlja, prosto pot. Zmanjšam hitrost in se umaknem k robu vozišča.